




# Zeichen im Verkehr

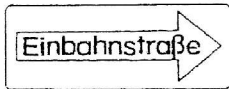
## Was bedeuten diese Verkehrsschilder?



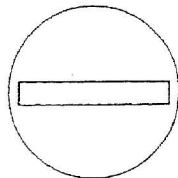
Radfahrer müssen diesen Weg benutzen. .... S  
 Radfahrer dürfen zwischen diesem Weg  
 und der Straße wählen. .... T  
 Radfahrer müssen ihr Rad  
 auf diesem Weg schieben. .... P



Hier dürfen nur Radfahrer fahren. .... O  
 Hier ist das Radfahren verboten. .... C  
 Hier kommen Fahrräder von rechts. .... H



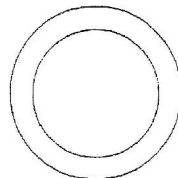
Hier darf man nur in die vorgegebene  
 Richtung fahren. .... H  
 Hier darf man nur rechts abbiegen. .... Q  
 In dieser Straße darf kein Fahrzeug fahren. .... R



Hier gibt es eine Schranke. .... A  
 Die Straße wird enger. .... D  
 In diese Straße darf von dieser Seite  
 kein Fahrzeug hineinfahren (Einbahnstraße). .... I



Alle Fahrzeuge müssen anhalten. .... L  
 Nur Autos müssen anhalten. .... M  
 Bei starkem Verkehr muss man anhalten. .... W



Hier darf man nicht parken. .... L  
 Hier darf kein Fahrzeug fahren. .... D  
 Hier ist ein Kreisverkehr. .... N



Lösung: \_\_\_\_\_

### Aufgabe:

1. Suche die Schilder auf einer farbigen Abbildung und male sie an.
2. Lies die Sätze neben den Schildern und kreise den Buchstaben hinter dem richtigen Satz ein.
3. Du erhältst ein Lösungswort.